


EJERCICIOS DE ESTADÍSTICA

Asignatura: Matemáticas

Curso: 1º de Grado en Farmacia

Eduardo López Ramírez (elopez@ceu.es)
José Rojo Montijano (jrojo.eps@ceu.es)
Anselmo Romero Limón (arlimon@ceu.es)
Alfredo Sánchez Alberca (asalber@ceu.es)

Curso 2014-2015



CEU

*Universidad
San Pablo*

Cartagena99

CLASES PARTICULARES, TUTORÍAS TÉCNICAS ONLINE
LLAMA O ENVÍA WHATSAPP: 689 45 44 70

ONLINE PRIVATE LESSONS FOR SCIENCE STUDENTS
CALL OR WHATSAPP:689 45 44 70

Índice

1. Estadística Descriptiva	2
2. Regresión y Correlación	10
3. Probabilidad	18
4. Variables Aleatorias	23
5. Estimación de parámetros	33

The logo for Cartagena99 features the text 'Cartagena99' in a stylized, blue, serif font. The '99' is significantly larger and more prominent than the 'Cartagena' part. The text is set against a light blue background with a white arrow pointing to the right, and a yellow shadow is cast beneath the text.

CLASES PARTICULARES, TUTORÍAS TÉCNICAS ONLINE
LLAMA O ENVÍA WHATSAPP: 689 45 44 70

ONLINE PRIVATE LESSONS FOR SCIENCE STUDENTS
CALL OR WHATSAPP:689 45 44 70

1. Estadística Descriptiva

- ★ 1. El número de lesiones padecidas durante una temporada por cada jugador de un equipo de fútbol fue el siguiente:

0 - 1 - 2 - 1 - 3 - 0 - 1 - 0 - 1 - 2 - 0 - 1
1 - 1 - 2 - 0 - 1 - 3 - 2 - 1 - 2 - 1 - 0 - 1

Se pide:

- Construir la tabla de frecuencias.
- Dibujar el polígono de frecuencias.
- Calcular los cuartiles y el rango intercuartílico e interpretarlo.
- Calcular el coeficiente de asimetría e interpretarlo.

SOLUCIÓN

- $C_1 = 0,5$ lesión, $C_2 = 1$ lesiones y $C_3 = 2$ lesiones. $RI = 1,5$ lesiones, lo que indica que hay bastante dispersión central.
 - $\bar{x} = 1,125$ lesiones, $s^2 = 0,776$ lesiones², $s = 0,88$ lesiones y $g_1 = 0,49$ lo que indica que la distribución es un poco asimétrica a la derecha.
-

2. En un hospital se realizó un estudio sobre el número de personas que ingresaron en urgencias en el mes de noviembre. Los datos observados fueron:

15 - 23 - 12 - 10 - 28 - 7 - 12 - 17 - 20 - 21 - 18 - 13 - 11 - 12 - 26
30 - 6 - 16 - 19 - 22 - 14 - 17 - 21 - 28 - 9 - 16 - 13 - 11 - 16 - 20

Se pide:

- Obtener una distribución de frecuencias agrupadas.
- Dibujar el histograma y el polígono de frecuencias correspondientes.
- Calcular la media aritmética, la mediana y la moda.
- Calcular la varianza y la desviación típica.
- Calcular el coeficiente de variación de Pearson.
- Calcular el tercer decil.
- Calcular el percentil 62.

SOLUCIÓN

Agrupando en las clases (5, 10], (10, 15], (15, 20], (20, 25], (25, 30].

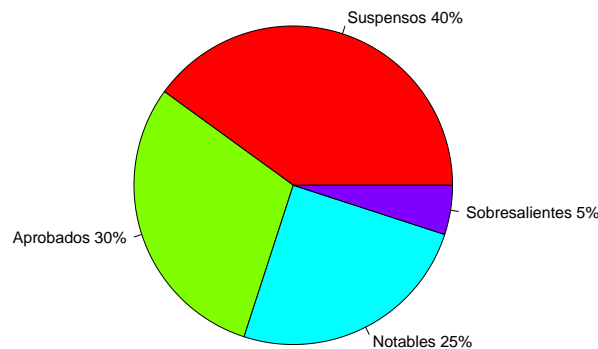
- $\bar{x} = 16,67$ ingresos, $Med = 16,11$ ingresos y $Mod = (10, 15]$ y $(15, 20]$ ingresos.
- $s^2 = 36,75$ ingresos², $s = 6,06$ ingresos.

**CLASES PARTICULARES, TUTORÍAS TÉCNICAS ONLINE
LLAMA O ENVÍA WHATSAPP: 689 45 44 70**

- - -

**ONLINE PRIVATE LESSONS FOR SCIENCE STUDENTS
CALL OR WHATSAPP:689 45 44 70**

- ★ 3. El siguiente diagrama refleja el porcentaje de calificaciones obtenidas en un examen realizado a 80 alumnos:



Se pide:

- Construir la tabla de frecuencias para las calificaciones.
- Dibujar el polígono de frecuencias acumuladas.
- Calcular todos los estadísticos de tendencia central que sean posibles.
- A partir de la variable calificación, construir la variable nota con los siguientes intervalos: Suspenso $[0, 5)$, Aprobado $[5, 7)$, Notable $[7, 9)$ y Sobresaliente $[9, 10]$, y calcular la nota media y estudiar su representatividad.

Nota: En los tres primeros apartados se debe trabajar con la variable calificación, mientras que en el último debe utilizarse la variable nota.

SOLUCIÓN

- $Me = \text{Aprobado}$ y $Mo = \text{Suspenso}$.
 - $\bar{x} = 5,275$ puntos, $s = 2,447$ puntos y $cv = 0,464$, de manera que la media es moderadamente representativa.
-

4. Se ha llevado a cabo un estudio sobre el número de radiografías realizadas durante el último año a un grupo de 200 personas, y la información se presenta en la siguiente tabla incompleta:

Radiografías	Personas	f_i	F_i
0		0,20	
1	84		0,72
2			
3			
4	24		
5		0,02	

- Completar tabla.
- Calcular media, mediana, desviación típica y coeficiente de variación e interpretar los resultados.

Cartagena99

**CLASES PARTICULARES, TUTORÍAS TÉCNICAS ONLINE
LLAMA O ENVÍA WHATSAPP: 689 45 44 70**

**ONLINE PRIVATE LESSONS FOR SCIENCE STUDENTS
CALL OR WHATSAPP:689 45 44 70**

5. Para determinar la eficacia de un nuevo método para la medición del hematocrito en sangre, se repitió la medida 8 veces sobre una misma muestra de sangre, obteniéndose los siguientes resultados (en porcentaje de hematocrito sobre volumen de plasma sanguíneo):

42,2 42,1 41,9 41,8 42 42,1 41,9 42.

¿Se puede afirmar que se trata de un buen método de medición?

SOLUCIÓN

$\bar{x} = 42\%$, $s^2 = 0,015\%^2$, $s = 0,1225\%$ y $cv = 0,003$ lo que indica que la variabilidad entre las mediciones es ínfima y por tanto se trata de un buen método de medición.

- ★ 6. Como parte de un proyecto de investigación, los investigadores obtuvieron los siguientes datos respecto a los niveles de peróxido lípido (en nmol/ml) en el suero de 30 individuos adultos bajo tratamiento de Diabetes Mellitus:

3,09 6,06 7,34 5,32 4,29 5,36 6,01 7,84 3,87 5,23
4,67 7,89 5,16 6,32 6,45 3,21 5,98 6,45 7,12 4,13
5,16 3,04 4,56 5,67 5,98 6,23 7,34 5,32 4,21 7,13

Agrupar los datos en 5 clases de amplitud unidad, comenzando en 3, y sobre la distribución obtenida:

- Calcular media, desviación típica y coeficiente de variación de los niveles de peróxido lípido. Interpretar el coeficiente de variación.
- Calcular cuartiles de la distribución e interpretarlos.
- Dibujar el diagrama de caja y bigotes y comprobar si hay o no datos atípicos.

SOLUCIÓN

- $\bar{x} = 5,667$ nmol/ml, $s^2 = 1,668$ (nmol/ml)², $s = 1,292$ nmol/ml y $cv = 0,228$, lo que indica que hay poca dispersión y la media es bastante representativa.
- $C_1 = 4,7$ nmol/ml, $C_2 = 5,667$ nmol/ml y $C_3 = 6,75$ nmol/ml.
- Las vallas son $v_1 = 1,625$ y $v_2 = 9,825$. Todos los datos están entre las vallas y no hay datos atípicos. Los bigotes son $b_1 = 3,04$ nmol/ml y $b_2 = 7,89$ nmol/ml.

- ★ 7. A continuación figura la distribución de edades de una muestra de 65 individuos sujetos a rehabilitación tras un infarto de miocardio:

Edad	[40-50)	[50-60)	[60-70)	[70-80)	[80-90)
n_i	6	12	23	19	5

- Sabemos que una distribución normal es simétrica y mesocúrtica. Por tanto, una primera idea de si los datos muestrales provienen de una distribución normal nos la puede dar ver si estos valores se encuentran en el intervalo $[-2, 2]$. ¿Podríamos suponer según esto que los datos provienen de

**CLASES PARTICULARES, TUTORÍAS TÉCNICAS ONLINE
LLAMA O ENVÍA WHATSAPP: 689 45 44 70**

**ONLINE PRIVATE LESSONS FOR SCIENCE STUDENTS
CALL OR WHATSAPP:689 45 44 70**

b) $P_{85} = 77,5$ años.

8. En cuestionario sobre la dependencia de las personas mayores de 75 años se preguntaba sobre la necesidad de ayuda en el desarrollo normal de su vida. Las posibles respuestas eran:

- a) Ninguna ayuda.
- b) Ayuda al subir las escaleras.
- c) Ayuda al subir las escaleras y al incorporarse de una posición sentada o tumbada.
- d) Ayuda al subir las escaleras, al incorporarse, y al vestirse.
- e) Ayuda para prácticamente todo.

El cuestionario lo respondieron 20 personas, y los resultado obtenidos fueron

b - d - a - b - c - c - b - c - d - e - a - b - c - e - a - b - c - d - b - b

Se pide:

- a) Representar gráficamente la distribución de frecuencias.
- b) Calcular las medidas de tendencia central.
- c) Calcular los cuartiles y el decil 8.
- d) ¿Qué se puede decir sobre la dispersión?

SOLUCIÓN

- b) Me ente b y c y $Mo = b$.
- c) $C_1 = b$, C_2 entre b y c, $C_3 =$ entre c y d, $D_8 = d$.
- d) Suponiendo que hay la misma distancia entre categorías y asignando rangos a cada valor ($a = 1, b = 2, c = 3, d = 4, e = 5$), tenemos $\bar{x} = 2,7$, $s^2 = 1,41$, $s = 1,187$ y $cv = 0,44$, lo que indica una dispersión moderada.

★ 9. Se desea realizar un estudio sobre los días necesarios para tratar una determinada lesión deportiva. Se utilizaron para ello dos tratamientos diferentes, y se observaron 50 pacientes con cada uno de los tratamientos, obteniendo los siguientes resultados:

Nº Sesiones	Tratamiento A	Tratamiento B
20-40	5	8
40-60	20	15
60-80	18	20
80-100	7	7

a) Calcular el número de sesiones por debajo del cual está el 86% de los pacientes, en cada trata-

**CLASES PARTICULARES, TUTORÍAS TÉCNICAS ONLINE
LLAMA O ENVÍA WHATSAPP: 689 45 44 70**

**ONLINE PRIVATE LESSONS FOR SCIENCE STUDENTS
CALL OR WHATSAPP:689 45 44 70**



- b) $\bar{x}_A = 60,8$ sesiones, $s_A^2 = 291,36$ sesiones², $s_A = 17,0693$ sesiones y $cv_A = 0,28$.
 $\bar{x}_B = 60,4$ sesiones, $s_B^2 = 339,84$ sesiones², $s_B = 18,4348$ sesiones y $cv_B = 0,31$.
 Así pues, como $cv_A < cv_B$ la media es un poco más representativa para el tratamiento A.
- c) $g_{1A} = 0,068$ y $g_{1B} = -0,14$ lo que indica que la distribución para el tratamiento A es ligeramente asimétrica hacia la derecha y la del tratamiento B ligeramente asimétrica hacia la izquierda, aunque ambas son casi simétricas.

- ★ 10. Se ha realizado un estudio sobre la tensión arterial en dos ciudades A y B. Se tomó una muestra de 20 individuos, que arrojó los siguientes valores:

Tensión	135	128	137	110	154	142	121	127	114	103
Ciudad	A	B	A	B	A	A	A	B	B	B

Tensión	98	96	114	123	132	141	132	121	98	136
Ciudad	A	B	A	B	A	B	A	B	B	A

Se pide:

- Construir la tabla de frecuencias para la tensión, agrupando en clases de amplitud 10, entre 95 y 155.
- Dibujar el polígono de frecuencias acumuladas correspondiente a la tabla anterior.
- Calcular el coeficiente de asimetría e interpretarlo.
- Calcular el tercer decil e interpretarlo.
- Considerando los datos sin agrupar, ¿en qué ciudad son más homogéneas las tensiones?

SOLUCIÓN

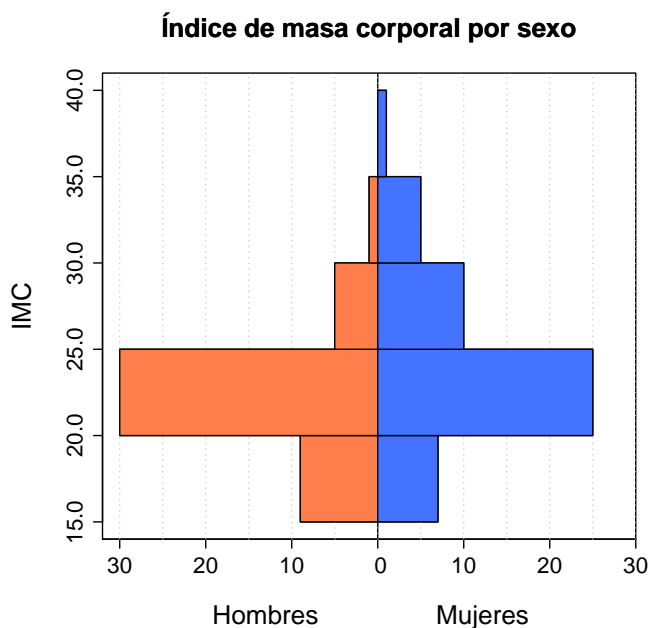
- c) $\bar{x} = 123$ mmHg, $s^2 = 251$ mmHg², $s = 15,843$ mmHg y $g_1 = -0,12$, por lo que la distribución es un poco asimétrica hacia la izquierda.
- d) $D_3 = 111,67$ mmHg.
- e) $\bar{x}_A = 130,1$ mmHg, $s_A^2 = 219,89$ mmHg², $s_A = 14,8287$ mmHg y $cv_A = 0,1139$.
 $\bar{x}_B = 116,1$ mmHg, $s_B^2 = 189,69$ mmHg², $s_B = 13,7728$ mmHg y $cv_B = 0,1186$. Así pues, como el $cv_A < cv_B$ las tensiones son un poco más homogéneas en la ciudad A, aunque en ambos casos las muestras son muy homogéneas.

- ★ 11. El siguiente histograma refleja la distribución del índice de masa corporal en una muestra de hombres y mujeres.



CLASES PARTICULARES, TUTORÍAS TÉCNICAS ONLINE
LLAMA O ENVÍA WHATSAPP: 689 45 44 70

ONLINE PRIVATE LESSONS FOR SCIENCE STUDENTS
CALL OR WHATSAPP:689 45 44 70



Se pide:

- Construir la tabla de frecuencias para hombres y mujeres por separado.
- Dibujar el diagrama de sectores para el sexo.
- ¿En qué grupo es más representativa la media? Justificar la respuesta.
- ¿Cómo calcularías la media de toda la muestra a partir de las medias de hombres y mujeres?
¿Cuánto vale?
- Calcular el rango intercuartílico del índice de masa corporal en los hombres.

SOLUCIÓN

- $\bar{m} = 24,17 \text{ Kg/m}^2$, $s_m^2 = 21,1806 \text{ (Kg/m}^2)^2$, $s_m = 4,6 \text{ Kg/m}^2$ y $cv_m = 0,19$.
 $\bar{h} = 22,28 \text{ Kg/m}^2$, $s_h^2 = 9,9506 \text{ (Kg/m}^2)^2$, $s_h = 3,15 \text{ Kg/m}^2$ y $cv_h = 0,14$, luego es más representativa la media en los hombres.
- $\bar{x} = 23,25 \text{ Kg/m}^2$.
- $RI = 3,75 \text{ Kg/m}^2$.

★ 12. Se han medido las estaturas, X , en metros de 15 individuos, obteniéndose los siguientes sumatorios:

$$\sum_{i=1}^{15} x_i = 26,40 \text{ m}, \quad \sum_{i=1}^{15} x_i^2 = 52,45 \text{ m}^2, \quad \sum_{i=1}^{15} (x_i - \bar{x})^3 = -8,42 \text{ m}^3$$

**CLASES PARTICULARES, TUTORÍAS TÉCNICAS ONLINE
LLAMA O ENVÍA WHATSAPP: 689 45 44 70**

**ONLINE PRIVATE LESSONS FOR SCIENCE STUDENTS
CALL OR WHATSAPP:689 45 44 70**

- a) $\bar{x} = 1,76$ m, $s^2 = 0,399$ m², $s = 0,631$ m, $CV = 0,359$ (dispersión moderada), $g_1 = -2,234$ (distribución muy asimétrica a la izquierda)
- b) $\bar{y} = 1,736$, $s_y = 0,694$, $CV_y = 0,40$, $g_{1y} = -2,234$.

13. Dada la siguiente muestra del número de ingresos en urgencias en un determinado hospital,

5 - 7 - 11 - 7 - 4 - 7 - 24 - 7 - 8 - 8 - 9 - 8 - 13 - 7 - 8 - 17 - 7 - 6

estudiar la asimetría de la muestra y transformar los datos para conseguir una simetría más normal.

SOLUCIÓN

$\bar{x} = 9,055$ ingresos, $s^2 = 21,4969$ ingresos², $s = 4,6365$ ingresos y $g_1 = 2,02$. Para corregir asimetría tomamos $Y = \ln(X)$ y resulta $\bar{y} = 2,108$, $s_y^2 = 0,1668$, $s_y = 0,4084$ y $g_1 = 0,95$.

- ★ 14. Si a todos los datos de una muestra se les suma una misma cantidad positiva, ¿cómo se ve afectada la representatividad de la media? ¿Y si se multiplican por un mismo número distinto de 0? Razonar la respuesta.

SOLUCIÓN

La representatividad de la media aumenta cuando se suma una constante a los datos y se mantiene igual cuando se multiplican por una constante.

- ★ 15. En un laboratorio se ha medido el número de hijos que tuvieron unas ratas que habían seguido un tratamiento de fertilidad, obteniendo los siguientes resultados:

7 - 5 - 6 - 6 - 8 - 9 - 10 - 8 - 7 - 6 - 8 - 7 - 9 - 11 - 8 - 7 - 7 - 7 - 6 - 8

- a) Existen datos atípicos en la muestra? Justificar la respuesta.
Nota: En caso de detectarse algún dato atípico, no quitarlo.
- b) Calcular los coeficientes de asimetría y apuntamiento e interpretarlos. Se puede concluir que la muestra proviene de una población normal?

SOLUCIÓN

- a) El 11 es un dato atípico.
- b) $g_1 = 0,61$ lo que indica que la distribución es asimétrica hacia la derecha, y $g_2 = 0,084$, lo que indica que la distribución es un poco platocúrtica. Como ambos valores están en el intervalo $[-2, 2]$ se puede suponer que la muestra viene de una población normal.

- ★ 16. En un estudio sobre el número de kilocalorías diarias en la dieta de los españoles mayores de edad se

**CLASES PARTICULARES, TUTORÍAS TÉCNICAS ONLINE
LLAMA O ENVÍA WHATSAPP: 689 45 44 70**

**ONLINE PRIVATE LESSONS FOR SCIENCE STUDENTS
CALL OR WHATSAPP:689 45 44 70**

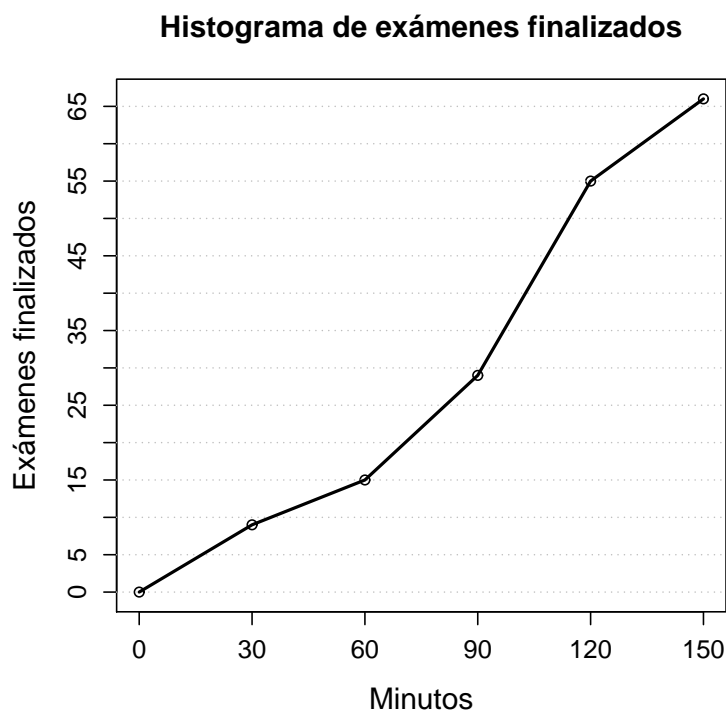
- Qué media de consumo de kilocalorías es más representativa de su distribución, la de hombres o la de mujeres? Justificar adecuadamente la respuesta.
- Cuánto vale el percentil 90 del consumo de kilocalorías en los hombres?
- Cuánto vale el coeficiente de apuntamiento de la distribución global, considerando hombres y mujeres? Interpretarlo.

SOLUCIÓN

Llamando h y m al número de kilocalorías en hombres y mujeres respectivamente:

- $\bar{h} = 2407,407$ kcal, $s_h = 468,1927$ kcal y $cv_h = 0,1945$.
 $\bar{m} = 1917,391$ kcal $s_m = 484,6802$ kcal y $cv_m = 0,2528$.
 - El percentil 90 en los hombres vale 3040 kcal.
 - $g_2 = -0,73$, lo que indica que la distribución es platicúrtica.
-

- ★ 17. En un examen de estadística al que se han presentado 66 alumnos se ha contado el número de exámenes finalizados cada media hora, obteniendo el siguiente polígono:



Se pide:

**CLASES PARTICULARES, TUTORÍAS TÉCNICAS ONLINE
LLAMA O ENVÍA WHATSAPP: 689 45 44 70**

**ONLINE PRIVATE LESSONS FOR SCIENCE STUDENTS
CALL OR WHATSAPP:689 45 44 70**

- b) $Me = 94,6154$ min.
 c) $g_1 = -0,618$, lo que indica que la distribución es asimétrica hacia la izquierda.

2. Regresión y Correlación

18. Se ha realizado un estudio comparativo de las puntuaciones obtenidas por los alumnos en un test de ingreso en la universidad (X), y el número de asignaturas aprobadas en el primer curso (Y). Los resultados obtenidos se expresan en la siguiente tabla:

$X \setminus Y$	0	1	2	3	4
[0, 10)	2	2	1	0	0
[10, 20)	1	1	2	2	0
[20, 30)	0	1	3	4	1
[30, 40)	0	0	2	2	6

Se desea calcular:

- a) Recta de regresión de X sobre Y .
 b) Coeficiente de correlación e interpretación del mismo.
 c) Si la universidad en cuestión sólo contara con alumnos que al menos logren aprobar dos asignaturas, ¿qué número de preguntas respondidas correctamente exigirá en el test?

SOLUCIÓN

- a) $\bar{x} = 23$ puntos, $\bar{y} = 2,4$ asignaturas, $s_x^2 = 116$ puntos², $s_y^2 = 1,5733$ asignaturas², $s_x = 10,7703$ puntos, $s_y = 1,2453$ asignaturas y $s_{xy} = 9,8$ puntos·asignaturas.
 Recta de regresión de X sobre Y : $x = 6,2288y + 8,0508$.
 b) $r = 0,73$, lo que quiere decir que hay buena relación lineal entre las puntuaciones y las asignaturas aprobadas y además es creciente (a mayor puntuación en el test, más asignaturas aprobadas).

- ★ 19. Al realizar un estudio sobre la dosificación de un cierto medicamento, se trataron 6 pacientes con dosis diarias de 2 mg, 7 pacientes con 3 mg y otros 7 pacientes con 4 mg. De los pacientes tratados con 2 mg, 2 curaron al cabo de 5 días, y 4 al cabo de 6 días. De los pacientes tratados con 3 mg diarios, 2 curaron al cabo de 3 días, 4 al cabo de 5 días y 1 al cabo de 6 días. Y de los pacientes tratados con 4 mg diarios, 5 curaron al cabo de 3 días y 2 al cabo de 5 días.

Se pide:

- a) Dar el coeficiente de correlación e interpretación.
 b) Determinar el tiempo esperado de curación para una dosis de 5 mg diarios.

SOLUCIÓN

CLASES PARTICULARES, TUTORÍAS TÉCNICAS ONLINE
 LLAMA O ENVÍA WHATSAPP: 689 45 44 70

ONLINE PRIVATE LESSONS FOR SCIENCE STUDENTS
 CALL OR WHATSAPP:689 45 44 70

20. Se determina la pérdida de actividad que experimenta un medicamento desde el momento de su fabricación a lo largo del tiempo, obteniéndose el siguiente resultado:

Tiempo (en años)	1	2	3	4	5
Actividad restante (%)	96	84	70	58	52

Se desea calcular:

- La relación fundamental (recta de regresión) entre actividad y tiempo transcurrido.
- El tiempo en meses que corresponde al 80 % de actividad.
- ¿Cuándo será nula la actividad?

SOLUCIÓN

Llamando T al tiempo y A a la actividad del fármaco:

- $\bar{t} = 3$ años, $\bar{a} = 72\%$, $s_t^2 = 2$ años², $s_a^2 = 264\%^2$, $s_{ta} = -22,8$ años·%.
Recta de regresión de actividad sobre tiempo: $a = -11,4t + 106,2$.
- Recta de regresión de tiempo sobre actividad: $t = -0,086a + 9,2182$.
 $t(80) = 2,3091$ años.
- $t(0) = 9,2182$ años.

- ★ 21. En una población se ha realizado un estudio sobre el nivel de colesterol en sangre (X) y la tensión arterial máxima (Y) obteniendo. Para ello se ha tomado una muestra de 80 individuos que ha dado lugar a la siguiente tabla de frecuencias:

$X \setminus Y$	[110, 130)	[130, 150)	[150, 170)	n_x
[170, 190)		4		12
[190, 210)	10	12	4	
[210, 230)	7		8	
[230, 250)	1			18
n_y		30	24	

Se pide:

- Completar la tabla.
- Recta de regresión del nivel de colesterol sobre la tensión.
- Coefficiente de determinación e interpretación.
- La tensión arterial máxima esperada para una persona cuyo nivel de colesterol es 270.

SOLUCIÓN

**CLASES PARTICULARES, TUTORÍAS TÉCNICAS ONLINE
LLAMA O ENVÍA WHATSAPP: 689 45 44 70**

**ONLINE PRIVATE LESSONS FOR SCIENCE STUDENTS
CALL OR WHATSAPP:689 45 44 70**

- b) $\bar{x} = 212$ mg/dl, $\bar{y} = 139,5$ mmHg, $s_x^2 = 396$ (mg/dl)², $s_y^2 = 249,75$ mmHg² y $s_{xy} = 161$ mg/dl·mmHg.
- c) $r^2 = 0,261$, que quiere decir que hay poca relación lineal entre el nivel de colesterol y la tensión ya que la recta de regresión anterior sólo explica el 26,1 % de la variabilidad del colesterol.
- d) Recta de regresión de la tensión arterial sobre el colesterol: $y = 0,407x + 53,308$.
 $y(270) = 163,198$ mmHg.

- ★ 22. En un estudio para relacionar la longitud de la línea de la vida de la mano izquierda y la duración de la vida de una persona se han obtenido datos de 50 personas con los siguientes resultados (X =longitud de la línea en cm, Y =edad al morir en años):

$$\sum y = 3333 \quad \sum y^2 = 231933 \quad \sum x = 459,9 \quad \sum x^2 = 4308,57 \quad \sum xy = 30949.$$

A la vista de estos resultados, ¿cuanto vivirá, por término medio, una persona con una línea de longitud 7.5 cm? ¿Es fiable esta estimación?

————— SOLUCIÓN —————

$\bar{x} = 9,198$ cm, $\bar{y} = 66,66$ años, $s_x^2 = 1,568$ cm², $s_y^2 = 195,104$ años² y $s_{xy} = 6,393$ cm·años.

Recta de regresión de la edad al morir sobre la longitud de la línea de la vida: $y = 4,077x + 29,158$.

$y(7,5) = 59,736$ años.

$r^2 = 0,13$, lo que quiere decir que casi no hay relación lineal entre las variables y la predicción anterior no es fiable.

23. Se consideran dos variables aleatorias X e Y tales que:

- La recta de regresión de Y sobre X viene dada por la ecuación: $y - x - 2 = 0$.
- La recta de regresión de X sobre Y viene dada por la ecuación: $y - 4x + 22 = 0$.

Calcular:

- a) Valores de \bar{x} e \bar{y} .
- b) Coeficiente de correlación lineal.

————— SOLUCIÓN —————

a) $\bar{x} = 8$ y $\bar{y} = 10$.

b) $r = 0,5$.

24. En el ajuste rectilíneo a una distribución bidimensional se sabe que $\bar{x} = 2$, $\bar{y} = 1$, y el coeficiente de correlación lineal es 0 ($r = 0$).



CLASES PARTICULARES, TUTORÍAS TÉCNICAS ONLINE
 LLAMA O ENVÍA WHATSAPP: 689 45 44 70

ONLINE PRIVATE LESSONS FOR SCIENCE STUDENTS
 CALL OR WHATSAPP:689 45 44 70

- ★ 25. En el estudio de regresión lineal con dos variables X e Y se sabe que $\bar{x} = 30$, $\bar{y} = 70$ y el coeficiente de correlación lineal es 0,8. También se sabe que para $x = 42$ el valor que predice la recta de regresión para y es 78.

Se pide:

- Calcular el valor de x que se predice cuando $y = 74$.
- Explicar razonadamente en cuál de las dos variables es más representativa la media.

SOLUCIÓN

- Recta de regresión de X sobre Y : $x = 0,96x - 37,2$.
 $x(74) = 33,84$.
 - $cv_x = 0,0408\sqrt{s_{xy}} > cv_y = 0,0146\sqrt{s_{xy}}$ y por tanto es más representativa la media de Y pues tiene menor dispersión relativa.
-

- ★ 26. En un centro dietético se está probando una nueva dieta de adelgazamiento en una muestra de 12 individuos. Para cada uno de ellos se ha medido el número de días que lleva con la dieta y el número de kilos perdidos desde entonces, obteniéndose los siguientes resultados:

(33 , 3.9), (51 , 5.9), (30 , 3.2), (55 , 6.0), (38 , 4.9), (62 , 6.2),
(35 , 4.5), (60 , 6.1), (44 , 5.6), (69 , 6.2), (47 , 5.8), (40 , 5.3)

Se pide:

- Dibujar el diagrama de dispersión. Según la nube de puntos, ¿qué tipo de modelo explicaría mejor la relación entre los días de dieta y los kilos perdidos?
- Dibujar el diagrama de dispersión tomando una escala logarítmica para los días de dieta.
- Calcular el modelo lineal y el logarítmico de los kilos perdidos con respecto a los días de dieta.
Nota: Utilizar los datos muestrales sin agrupar.
- Utilizar el mejor de los modelos anteriores para predecir en número de kilos perdidos tras 40 días de dieta y tras 100 días. ¿Son fiables estas predicciones?

SOLUCIÓN

Llamando X a los días de dieta, Y a los Kg perdidos y $Z = \log X$.

- $\bar{x} = 47$ días, $\bar{y} = 5,3$ Kg, $s_x^2 = 143,833$ días², $s_y^2 = 0,885$ Kg², $s_{xy} = 9,942$ días·Kg. Modelo lineal:
 $y = 0,069x + 2,051$.
 $\bar{z} = 3,82$ logdías, $s_z^2 = 0,07$ log²días, $s_{yz} = 0,22$ logdías·Kg.
Modelo logarítmico: $y = 3,4 \log y - 7,67$.
- Modelo lineal: $r^2 = 0,78$, modelo logarítmico: $r^2 = 0,86$.
Predicciones con el modelo logarítmico: $y(40) = 4,86$ Kg y $y(100) = 7,98$ Kg. Las predicciones

CLASES PARTICULARES, TUTORÍAS TÉCNICAS ONLINE
LLAMA O ENVÍA WHATSAPP: 689 45 44 70

ONLINE PRIVATE LESSONS FOR SCIENCE STUDENTS
CALL OR WHATSAPP:689 45 44 70

Se pide:

- Calcular la covarianza de S y T .
- ¿Se puede afirmar que S y T son independientes? Justificar la respuesta.
- ¿Qué valor predice la correspondiente recta de regresión para $t = 2$?

SOLUCIÓN

- $\bar{s} = 0$, $\bar{t} = 1,5$ y $s_{st} = 0$.
 - No podemos afirmar que S y T son independientes, sólo se puede afirmar que no hay relación lineal.
 - $s(2) = 0$.
-

28. En un experimento se ha medido el número de bacterias por unidad de volumen en un cultivo, cada hora transcurrida, obteniendo los siguientes resultados:

Horas	0	1	2	3	4	5	6	7	8
Nº Bacterias	25	28	47	65	86	121	190	290	362

Se pide:

- Dibujar el diagrama de dispersión. Según este diagrama, ¿qué tipo de modelo explicaría mejor la relación entre el número de bacterias y las horas transcurridas?
- Dibujar el diagrama de dispersión tomando una escala logarítmica para el número de bacterias.
- Según el modelo anterior, ¿Cuántas bacterias tendríamos al cabo de 3 horas y media? ¿Y al cabo de 10 horas? ¿Son fiables estas predicciones?
- ¿Cuánto tiempo tendría que transcurrir para que en el cultivo hubiese 100 bacterias?

SOLUCIÓN

Llamando X a las horas, Y a las bacterias y Z al logaritmo neperiano de las bacterias:

- $\bar{x} = 4$ horas, $\bar{z} = 4,5149 \log(\text{bacterias})$, $s_x^2 = 6,6667 \text{ horas}^2$, $s_z^2 = 0,8361 \log^2(\text{bacterias})$ y $s_{xz} = 2,3466 \text{ horas} \cdot \log(\text{bacterias})$.
Modelo lineal del logaritmo de las bacterias sobre las horas: $z = 0,3520x + 3,1070$.
Modelo exponencial de las bacterias sobre las horas: $y = e^{0,3520x+3,1070}$.
 $y(3,5) = 76,6254$ bacterias y $y(10) = 755,0986$ bacterias.
 - Modelo lineal de las horas sobre el logaritmo de las bacterias: $x = 2,8218z - 8,7403$.
Modelo logarítmico de las horas sobre las bacterias: $x = 2,8218 \log y - 8,7403$.
 $x(100) = 4,25$ horas.
-

★ 29. La tabla siguiente contiene los datos de las presiones sistólicas de 15 individuos en función de la edad de estos.

Edad (a)	20	30	40	50	60
----------	----	----	----	----	----

**CLASES PARTICULARES, TUTORÍAS TÉCNICAS ONLINE
LLAMA O ENVÍA WHATSAPP: 689 45 44 70**

**ONLINE PRIVATE LESSONS FOR SCIENCE STUDENTS
CALL OR WHATSAPP:689 45 44 70**



SOLUCIÓN

- a) $\bar{x} = 40$ años, $\bar{y} = 130,867$ mmHg, $s_x^2 = 200$ años², $s_y^2 = 26,295$ mmHg² y $s_{xy} = 58,667$ años·mmHg.
 $r^2 = 0,654$, luego el modelo lineal explica el 65,4% de la varianza de la presión sistólica.
- b) Recta de regresión de la edad sobre la presión sistólica: $x = 2,231y - 251,978$.
 $x(133) = 44,745$ años. La predicción es bastante fiable pues el coeficiente de determinación es alto.
-

- ★ 30. En un banco de sangre se mantiene el plasma a 0°F. Cuando se necesita para una transfusión se calienta en un horno a una temperatura constante de 120°F. En un experimento se ha medido la temperatura del plasma a distintos instantes desde el comienzo del calentamiento. Los resultados son:

Tiempo (min)	5	8	15	25	30	37	45	60
Temperatura (°F)	25	50	86	102	110	114	118	120

Se pide:

- a) Dibujar el diagrama de dispersión. ¿Qué modelo explicaría la relación entre la temperatura y el tiempo?
- b) ¿Qué transformación de escala tendríamos que realizar en las variables para tener una nube de puntos con una tendencia lineal? Hacer la representación gráfica.
- c) Construir el modelo de regresión logarítmico de la temperatura sobre el tiempo.
- d) Según el modelo, ¿qué temperatura habrá a los 15 minutos? ¿Es fiable la predicción? Justificar la respuesta.
-

SOLUCIÓN

- ★ 31. La concentración de un fármaco en sangre, C en mg/dl, es función del tiempo, t en horas, y viene dada por la siguiente tabla:

t	2	3	4	5	6	7	8
C	25	36	48	64	86	114	168

- a) Según el modelo exponencial, ¿qué concentración de fármaco habría a las 4,8 horas? ¿Es fiable la predicción? Justificar adecuadamente la respuesta.
- b) Según el modelo lineal, ¿qué tiempo tendría que transcurrir para que la concentración de fármaco fuese de 100 mg/dl? ¿Es fiable la predicción? Justificar adecuadamente la respuesta.
-

SOLUCIÓN

Llamando T al tiempo, C a la concentración y Z al logaritmo de la concentración:

- a) $\bar{t} = 5$ horas, $\bar{z} = 4,1639 \log(\text{mg/dl})$, $s_t^2 = 4$ horas², $s_z^2 = 0,3785 \log^2(\text{mg/dl})$, $s_{tz} = 1,2291$

**CLASES PARTICULARES, TUTORÍAS TÉCNICAS ONLINE
 LLAMA O ENVÍA WHATSAPP: 689 45 44 70**

**ONLINE PRIVATE LESSONS FOR SCIENCE STUDENTS
 CALL OR WHATSAPP:689 45 44 70**

32. La actividad de una sustancia radiactiva en función del tiempo (en número de desintegraciones por segundo) viene dada por la siguiente tabla:

t (horas)	0	10	20	30	40	50	60	70
A (10^4 desintegraciones/s)	25,9	8,16	2,57	0,81	0,25	0,08	0,03	0,01

- Representar los datos de la actividad en función del tiempo. A la vista de la representación, ¿qué modelo de regresión explicaría mejor la relación entre la actividad y el tiempo transcurrido?
- Representar los datos de la actividad en función del tiempo en papel semilogarítmico (con escala logarítmica en el eje de ordenadas).
- Representar el logaritmo neperiano de la actividad en función del tiempo. ¿Qué modelo de regresión se utilizaría para ajustar la nube de puntos obtenida?
- Calcular la ecuación de la recta de regresión del logaritmo neperiano de la actividad en función del tiempo.
- Teniendo en cuenta que, en teoría, la actividad de una sustancia radiactiva en función del tiempo viene dada por la ecuación:

$$A(t) = A_0 e^{-\lambda t}$$

donde A_0 es la actividad inicial y λ es la llamada constante de desintegración, propia de cada sustancia radiactiva, utilizar la pendiente de la ecuación de la recta obtenida en el apartado anterior para calcular la constante de desintegración radiactiva de la sustancia con la que se han generado los datos.

SOLUCIÓN

Llamando X al tiempo e Y al logaritmo de la actividad

- $\bar{x} = 35$, $\bar{y} = -0,7421$, $s_x^2 = 525$, $s_y^2 = 6,6664$ y $s_{xy} = -59,1434$.
Recta de regresión de Y sobre X : $y = -0,1127x + 3,2008$.
 - $\lambda = 0,1127$.
-

33. Para oscilaciones de pequeña amplitud, el periodo T de oscilación de un péndulo simple viene dado por:

$$T = 2\pi \sqrt{\frac{L}{g}}$$

donde L es la longitud del péndulo y g la aceleración de la gravedad. Para comprobar que dicha ley es cierta, se mide T para varias longitudes del péndulo, obteniéndose la siguiente tabla:

L (cm)	52,5	68,0	99,0	116,0	146,0
T (seg)	1,449	1,639	1,999	2,153	2,408

Se pide:

- Representar los datos del periodo de oscilación frente a la longitud del péndulo. ¿Sería adecuado un modelo lineal para ajustar la nube de puntos?



**CLASES PARTICULARES, TUTORÍAS TÉCNICAS ONLINE
LLAMA O ENVÍA WHATSAPP: 689 45 44 70**

**ONLINE PRIVATE LESSONS FOR SCIENCE STUDENTS
CALL OR WHATSAPP: 689 45 44 70**

- e) Teniendo en cuenta el valor del término independiente de la recta obtenida en el apartado anterior, calcular el valor de g .

SOLUCIÓN

Llamando X al logaritmo de la longitud e Y al logaritmo del periodo:

- d) $\bar{x} = 4,5025 \text{ logcm}$, $\bar{y} = 0,6407 \text{ logs}$, $s_x^2 = 0,1353 \text{ log}^2\text{cm}$, $s_y^2 = 0,0339 \text{ log}^2\text{s}$, $s_{xy} = 0,0677 \text{ logcm}\cdot\text{logs}$.
 Recta de regresión de Y sobre X : $y = 0,5006x - 1,6132$.
- e) $g = 994,4145 \text{ cm/s}^2$.

34. En análisis colorimétrico, es frecuente utilizar la fracción de luz que absorbe una determinada sustancia disuelta como una medida de la concentración con la que dicha sustancia está presente en la disolución, siempre y cuando se utilice luz monocromática y la misma longitud recorrida por la luz en cada una de las mediciones. Si llamamos I_0 a la intensidad de luz incidente, I a la intensidad de luz transmitida y C a la concentración de la sustancia analizada, en un experimento de análisis colorimétrico realizado con Mn y una longitud de onda de 525 nm, se han obtenido los siguientes datos, donde la concentración de Mn viene dada en mg por cada 100 ml de disolución:

C	1,00	2,00	3,00	4,00
I/I_0	0,418	0,149	0,058	0,026

Se pide:

- a) Representar los datos considerando I/I_0 en función de C . A la vista de la nube de puntos, ¿qué modelo de regresión sería el más adecuado para expresar la relación entre las variables?
- b) Representar los datos pero en papel semilogarítmico.
- c) Calcular la ecuación de la recta de regresión del logaritmo neperiano de I/I_0 frente a C .

SOLUCIÓN

Llamando C a la concentración e Z al logaritmo neperiano de I/I_0 .

- c) $\bar{c} = 2,5 \text{ mg/100ml}$, $\bar{z} = -2,3183$, $s_c^2 = 1,25 \text{ (mg/100ml)}^2$, $s_z^2 = 1,0788$ y $s_{cz} = -1,1595$.
 Recta de regresión de Z sobre C : $z = -0,9276c + 0,0007$.

- ★ 35. Se quiere estudiar la relación entre las concentraciones de dos sustancias X e Y en la sangre. Para ello se han medido las concentraciones de estas sustancias en siete individuos, ambas en microgramos por decilitro de sangre, obteniendo los siguientes resultados

X	2,1	4,9	9,8	11,7	5,9	8,4	9,2
Y	1,3	1,5	1,7	1,8	1,5	1,7	1,7

**CLASES PARTICULARES, TUTORÍAS TÉCNICAS ONLINE
 LLAMA O ENVÍA WHATSAPP: 689 45 44 70**

**ONLINE PRIVATE LESSONS FOR SCIENCE STUDENTS
 CALL OR WHATSAPP:689 45 44 70**



- a) Modelo lineal: $r^2 = 0,9696$, luego existe una relación lineal muy fuerte.
- b) Modelo potencial: $r^2 = 0,9688$, luego también existe una relación potencial muy fuerte pero un poco menor que la lineal.
- c) $y(8) = 1,6296 \mu\text{gr/dl}$.
-

3. Probabilidad

36. Se dispone de dos urnas, la primera con 10 bolas blancas y 6 bolas negras, y la segunda con 5 bolas rojas, 8 bolas azules y 3 bolas verdes. Construir el espacio muestral del experimento que consiste en sacar una bola de cada urna, y del experimento que consistiría en sacar dos bolas de cada urna.
37. Un experimento consiste en seleccionar a una pareja de personas y medir su grupo sanguíneo y si son fumadores o no. Expresar el espacio muestral en forma de árbol.
38. En una estantería en la que hay 3 cajas de un medicamento A y 2 de un medicamento B , se eligen 3 al azar. ¿Cuál es la probabilidad de que se hayan elegido 2 cajas del medicamento A y 1 del B ?

_____ SOLUCIÓN _____

36/60.

39. En un laboratorio hay 4 frascos de ácido sulfúrico y 2 de ácido nítrico, y en otro hay 1 frascos de ácido sulfúrico y 3 de ácido nítrico. Se saca al azar un frasco de cada laboratorio. Hallar la probabilidad de que:
- a) Los dos frascos sean de ácido sulfúrico.
- b) Los dos sean de ácido nítrico.
- c) Uno sea de ácido sulfúrico y otro de ácido nítrico.
- d) Calcular la probabilidad de estos mismos sucesos si el frasco elegido en el primer laboratorio se introduce en el segundo antes de sacar el frasco de este.

_____ SOLUCIÓN _____

- a) 4/24.
- b) 6/24.
- c) 14/24.
- d) 8/30, 8/30 y 14/30 respectivamente.
-

40. Sean A y B sucesos de un mismo espacio muestral tales que: $P(A) = 3/8$, $P(B) = 1/2$, $P(A \cap B) = 1/4$.

**CLASES PARTICULARES, TUTORÍAS TÉCNICAS ONLINE
LLAMA O ENVÍA WHATSAPP: 689 45 44 70**

**ONLINE PRIVATE LESSONS FOR SCIENCE STUDENTS
CALL OR WHATSAPP:689 45 44 70**

f) $P(A/\overline{B})$.

_____ SOLUCIÓN _____

a) $P(A \cup B) = 5/8$.

b) $P(\overline{A}) = 5/8$ y $P(\overline{B}) = 1/2$.

c) $P(\overline{A} \cap \overline{B}) = 3/8$.

d) $P(A \cap \overline{B}) = 1/8$.

e) $P(A/B) = 1/2$.

f) $P(A/\overline{B}) = 1/4$.

41. La probabilidad de contraer hepatitis a partir de una unidad de sangre es 0'01. Un paciente recibe dos unidades de sangre durante su estancia en el hospital. ¿Cuál es la probabilidad de que contraiga hepatitis como consecuencia de ello?

_____ SOLUCIÓN _____

0,0199.

42. Sean A y B sucesos de un mismo espacio muestral, tales que $P(A) = 0,6$ y $P(A \cup B) = 0,9$. Calcular $P(B)$ si:

a) A y B son independientes.

b) A y B son incompatibles.

_____ SOLUCIÓN _____

a) $P(B) = 0,75$.

b) $P(B) = 0,3$.

43. El tétanos es mortal en el 70% de los casos. Si tres personas contraen el tétanos, ¿Cuál es la probabilidad de que mueran al menos dos de los tres?

_____ SOLUCIÓN _____

0,784.

- ★ 44. Un equipo de atención primaria de salud realiza un estudio de la población, para evaluar la incidencia de hipertensión e hipercolesterolemia. Para ello analizan a 1000 personas de dicha población, seleccionadas aleatoriamente, encontrándose que 180 presentan hipertensión, 140 hipercolesterolemia y 800

**CLASES PARTICULARES, TUTORÍAS TÉCNICAS ONLINE
LLAMA O ENVÍA WHATSAPP: 689 45 44 70**

**ONLINE PRIVATE LESSONS FOR SCIENCE STUDENTS
CALL OR WHATSAPP:689 45 44 70**

$$b) P(HT/\overline{HC}) = 0,0698.$$

- ★ 45. Tras observar los resultados de la prueba de selectividad se sabe que el 40 % de los alumnos aprueba el examen de Matemáticas, el 30 % el examen de Física y el 55 % suspenden los dos. Si se elige un alumno al azar, calcular:
- Probabilidad de que haya aprobado al menos uno de los dos exámenes.
 - Probabilidad de que haya aprobado Matemáticas si ha aprobado Física.
 - Probabilidad de que haya aprobado Física si ha suspendido Matemáticas.
 - ¿Son independientes aprobar Matemáticas y aprobar Física?

SOLUCIÓN

Llamando M al suceso correspondiente a aprobar Matemáticas y F a aprobar Física:

- $P(M \cup F) = 0,45$.
 - $P(M/F) = 0,83$.
 - $P(F/\overline{M}) = 0,08$.
 - No son independientes.
-

- ★ 46. En un experimento aleatorio se pueden dar dos sucesos A y B , y se sabe que $P(B) = 0,4$, $P(A/B) = 0,3$ y $P(A/\overline{B}) = 0,2$. Calcular las siguientes probabilidades:
- $P(A)$.
 - $P(\overline{A} \cap \overline{B})$.
 - $P(\overline{A} \cup \overline{B})$.

SOLUCIÓN

- $P(A) = 0,24$.
 - $P(\overline{A} \cap \overline{B}) = 0,52$.
 - $P(\overline{A} \cup \overline{B}) = 0,88$.
-

- ★ 47. En un servicio clínico digestivo se sabe que, de cada 1000 pacientes con dolor de estómago, 700 presentan gastritis, 200 presentan úlcera y 100 presentan cáncer. En el análisis de la sintomatología gástrica, se ha comprobado que las probabilidades de presentar vómitos son 0,3 en el caso de gastritis, 0,6 en el caso de úlcera y 0,9 en el caso de cáncer. Llega un nuevo paciente con dolor de estómago que, además, presenta vómitos. ¿Qué diagnosticaríamos?

SOLUCIÓN

**CLASES PARTICULARES, TUTORÍAS TÉCNICAS ONLINE
LLAMA O ENVÍA WHATSAPP: 689 45 44 70**

- - -

**ONLINE PRIVATE LESSONS FOR SCIENCE STUDENTS
CALL OR WHATSAPP:689 45 44 70**

- ★ 48. Un estudiante se somete a un examen de tipo test en el que cada pregunta tiene 3 respuestas posibles. El estudiante se sabe el 40 % de las preguntas, y el resto las contesta al azar. Se elige al azar una pregunta. ¿Qué probabilidad hay de que no la supiera si la contestó correctamente?

_____ SOLUCIÓN _____

1/3.

- ★ 49. Se ha desarrollado un nuevo test diagnóstico para detectar el síndrome de Down en niños recién nacidos, con un sensibilidad del 80 % y una especificidad del 90 %. Si en una determinada población en la que hay un 1 % de recién nacidos con el síndrome, al aplicarle el test a un niño, da positivo, ¿cuál es la probabilidad de que tenga el síndrome? ¿le diagnosticarías la enfermedad? ¿Cuál debería ser la especificidad mínima del test para diagnosticar el síndrome en el caso de dar positivo?

Nota: La *sensibilidad* de un test diagnóstico es la proporción de personas con la enfermedad que tienen un resultado positivo en el test, mientras que la *especificidad* del test es la proporción de personas sin la enfermedad que tienen un resultado negativo en el test.

_____ SOLUCIÓN _____

Llamando S a tener el síndrome de Down y $+$ a que el test de positivo, $P(S/+) = 0,0748$ y $P(\bar{S}/+) = 0,9252$, de modo que no se diagnosticaría el síndrome al ser más probable que no lo tenga. La especificidad mínima para que el test diagnostique el síndrome es $P(-/\bar{S}) = 0,9919$.

- ★ 50. En un estudio se han probado tres tipos de tratamientos A , B y C contra una determinada enfermedad. De los pacientes participantes en el estudio, el 50 % fueron tratados con el tratamiento A , el 30 % con el B y el 20 % con el C . Posteriormente se observaron los pacientes que sanaron y los que tuvieron algún efecto secundario, según se muestra en la siguiente tabla:

Tratamiento	Sanados	Con efectos secundarios
A	86 %	12 %
B	92 %	14 %
C	81 %	6 %

Se pide:

- Si se selecciona un enfermo al azar, ¿cuál es la probabilidad de que haya sanado? ¿Y de que haya tenido algún efecto secundario?
- Si un enfermo ha sanado, ¿qué tratamiento es más probable que haya recibido? ¿Y si en vez de decirnos que ha sanado nos dicen que no ha tenido efectos secundarios?
- Si en total hay un 8 % pacientes que no sanaron pero que tampoco tuvieron efectos secundarios, ¿cuál es la probabilidad de que un enfermo se haya curado sin tener efectos secundarios?

_____ SOLUCIÓN _____

Llamado S a sanar y E a tener efectos secundarios:

- $P(S) = 0,868$ y $P(E) = 0,114$.

CLASES PARTICULARES, TUTORÍAS TÉCNICAS ONLINE
LLAMA O ENVÍA WHATSAPP: 689 45 44 70

ONLINE PRIVATE LESSONS FOR SCIENCE STUDENTS
CALL OR WHATSAPP:689 45 44 70

- ★ 51. En una población se ha vacunado a la tercera parte de los individuos contra la gripe. Trascurrido el invierno, se comprueba que la probabilidad de estar vacunado si se tiene la gripe es 0,2, y que el 10 % de los vacunados tuvieron gripe.
- ¿Cuál fue la incidencia de la epidemia de gripe?
(Nota: La incidencia de una epidemia es la probabilidad de personas infectadas).
 - ¿Cuál es la probabilidad de que una persona no vacunada contraiga la gripe?
 - ¿Se puede afirmar que la vacuna tiene alguna eficacia?

SOLUCIÓN

Llamando G al suceso consistente en tener la gripe y V a estar vacunado:

- $P(G) = 1/6$.
 - $P(G/\bar{V}) = 0,2$.
 - Si resulta eficaz, aunque poco.
-

- ★ 52. Una enfermedad se trata con 3 medicamentos diferentes: A en un 50 % de los casos, B en un 30 % y C en un 20 %, todo ello independientemente de si se es hombre o mujer. Si sabemos que el medicamento A produce efectos secundarios en un 5 % de los hombres y en un 10 % de las mujeres, el B en un 15 % de los hombres y en un 5 % de las mujeres, y el C en un 8 % de los hombres y en un 13 % de las mujeres, se pide:
- ¿En qué colectivo resulta más probable que haya efectos secundarios, en hombres o en mujeres? Justificar adecuadamente la respuesta.
 - Calcular la probabilidad de que un hombre que presenta efectos secundarios haya sido tratado con C, y la de que una mujer que no los presenta haya sido tratada con A.
 - Si en total de enfermos hay un 65 % de hombres y un 35 % de mujeres, ¿qué probabilidad hay de que un enfermo que no presenta efectos secundarios sea mujer?

SOLUCIÓN

Llamando EH a que un hombre tenga efectos secundarios y EM a que los tenga una mujer:

- $P(EH) = 0,086$ y $P(EM) = 0,091$.
 - $P(C/EH) = 0,186$, y $P(A/\bar{EM}) = 0,495$.
 - $P(M/\bar{E}) = 0,349$.
-

- ★ 53. Al aplicar un test diagnóstico a una población se obtuvieron un 1 % de personas enfermas en las que el test dio negativo, un 2 % de personas sanas en las que el test dio positivo, y un 90 % de personas sanas en las que el test dio negativo. Se pide:
- Calcular la prevalencia de la enfermedad.

CLASES PARTICULARES, TUTORÍAS TÉCNICAS ONLINE
LLAMA O ENVÍA WHATSAPP: 689 45 44 70

ONLINE PRIVATE LESSONS FOR SCIENCE STUDENTS
CALL OR WHATSAPP:689 45 44 70

- ★ 54. Según la clasificación de la New York Heart Association, el grado funcional de insuficiencia cardíaca se clasifica en 4 categorías dependiendo del esfuerzo físico para que se produzca disnea (dificultad respiratoria o falta de aire):
- A la categoría A pertenecen los pacientes en los que la disnea se produce sólo en niveles de esfuerzo altos.
 - A la categoría B pertenecen los que la disnea se produce en niveles de esfuerzo medianos.
 - A la categoría C pertenecen los que la disnea se produce en niveles de esfuerzo pequeños.
 - A la categoría D pertenecen los que la disnea se produce incluso en reposo.

En un hospital se está investigando la evolución en el grado funcional de insuficiencia cardíaca como consecuencia de un tipo determinado de intervención en el corazón. Para los pacientes en los que se procedería a realizar la intervención, se observó que el 10 % pertenecían a la categoría A , el 20 % a la categoría B , el 30 % a la categoría C y el 40 % a la D . Después de la intervención todos los pacientes de la categoría A siguieron en A ; el 50 % de los de B pasó a A y el resto siguió en B ; el 30 % de los de C pasó a A , el 40 % pasó a B y el resto se quedó en C ; el 10 % de los de D pasó a A , el 30 % pasó a B , el 40 % pasó a C y el resto siguió en D .

Se pide:

- a) Si se toma al azar un paciente de dicho hospital que cumple los criterios para la intervención, ¿cuál es la probabilidad de que después de la misma esté en la categoría C ?
- b) Si sabemos que un paciente después de intervenido pertenece a la categoría B , ¿cuál es la categoría de la que resulta más probable que proceda?
- c) Si el hospital trabaja con un total de 10000 pacientes intervenidos, ¿cuántos en ningún caso han pertenecido a la categoría C , ya sea antes o después de la intervención? ¿Y cuántos han pertenecido a la categoría A , ya sea antes o después de la intervención?

SOLUCIÓN

Llamando a , b , c y d a los sucesos consistentes en pertenecer a las categorías A , B , C , y D respectivamente antes de la intervención, y A , B , C , y D a los sucesos consistentes en pertenecer a esas categorías después:

- a) $P(C) = 0,25$.
- b) $P(b/B) = 0,2941$, $P(c/B) = 0,3529$, $P(d/B) = 0,3529$.
- c) $P(\bar{c} \cap \bar{C}) = 0,54$ y $10000 \cdot 0,54 = 5400$ personas no han pertenecido nunca a la categoría C .
 $P(a \cup A) = 0,33$ y $10000 \cdot 0,33 = 3300$ personas que han estado en la categoría A antes o después de la intervención.

4. Variables Aleatorias



**CLASES PARTICULARES, TUTORÍAS TÉCNICAS ONLINE
LLAMA O ENVÍA WHATSAPP: 689 45 44 70**

**ONLINE PRIVATE LESSONS FOR SCIENCE STUDENTS
CALL OR WHATSAPP:689 45 44 70**

- 2) $P(X > 8)$.
 3) $P(4 \leq X \leq 6,5)$.
 4) $P(5 < X < 6)$.

SOLUCIÓN

a)

$$F(x) = \begin{cases} 0 & \text{si } x < 4, \\ 0,15 & \text{si } 4 \leq x < 5, \\ 0,5 & \text{si } 5 \leq x < 6, \\ 0,6 & \text{si } 6 \leq x < 7, \\ 0,85 & \text{si } 7 \leq x < 8, \\ 1 & \text{si } 8 \leq x. \end{cases}$$

b) $P(X < 7,5) = 0,85$, $P(X > 8) = 0$, $P(4 \leq x \leq 6,5) = 0,6$ y $P(5 < X < 6) = 0$.

56. Sea la variable aleatoria X con la siguiente función de distribución:

$$F(x) = \begin{cases} 0 & \text{si } x < 1, \\ 1/5 & \text{si } 1 \leq x < 4, \\ 3/4 & \text{si } 4 \leq x < 6, \\ 1 & \text{si } 6 \leq x. \end{cases}$$

Se pide:

- a) Distribución de probabilidad.
 b) Obtener:
 1) $P(X = 6)$.
 2) $P(X = 5)$.
 3) $P(2 < X < 5,5)$.
 4) $P(0 \leq X < 4)$.

SOLUCIÓN

a)

X	1	4	6
f(x)	1/5	11/20	1/4

b) $P(X = 6) = 1/4$, $P(X = 5) = 0$, $P(2 < X < 5,5) = 11/20$ y $P(0 \leq X < 4) = 1/5$.

- ★ 57. Se realiza un experimento aleatorio consistente en inyectar un virus a tres tipos de ratas y observar si sobreviven o no. Se sabe que la probabilidad de que viva el primer tipo de rata es 0,5, la de que viva

**CLASES PARTICULARES, TUTORÍAS TÉCNICAS ONLINE
 LLAMA O ENVÍA WHATSAPP: 689 45 44 70**

**ONLINE PRIVATE LESSONS FOR SCIENCE STUDENTS
 CALL OR WHATSAPP:689 45 44 70**

a)

X	0	1	2	3
$f(x)$	0,21	0,44	0,29	0,06

b)

$$F(x) = \begin{cases} 0 & \text{si } x < 0, \\ 0,21 & \text{si } 0 \leq x < 1, \\ 0,65 & \text{si } 1 \leq x < 2, \\ 0,94 & \text{si } 2 \leq x < 3, \\ 1 & \text{si } 3 \leq x. \end{cases}$$

c) $P(X \leq 1) = 0,65$, $P(X \geq 2) = 0,35$ y $P(X = 1,5) = 0$.d) $\mu = 1,2$ ratas, $\sigma^2 = 0,7$ ratas² y $\sigma = 0,84$ ratas.

58. La probabilidad de curación de un paciente al ser sometido a un determinado tratamiento es 0,85. Calcular la probabilidad de que en un grupo de 6 enfermos sometidos a tratamiento:

a) se curen la mitad.

b) se curen al menos 4.

SOLUCIÓN

Llamando X al número de pacientes curados de los 6 sometidos al tratamiento, se tiene que $X \sim B(6, 0,85)$.

a) $P(X = 3) = 0,041$.b) $P(X \geq 4) = 0,9526$.

59. Se sabe que la probabilidad de que aparezca una bacteria en un mm^3 de cierta disolución es de 0,002. Si en cada mm^3 a los sumo puede aparecer una bacteria, determinar la probabilidad de que en un cm^3 haya como máximo 5 bacterias.

SOLUCIÓN

Llamando X al número de bacterias en 1 cm^3 de disolución, se tiene $X \sim B(1000, 0,002) \approx P(2)$.
 $P(X \leq 5) = 0,9834$.

★ 60. El número medio de llamadas por minuto que llegan a una centralita telefónica es igual a 120. Hallar las probabilidades de los sucesos siguientes:

a) $A = \{\text{durante 2 segundos lleguen a la centralita menos de 4 llamadas}\}$.b) $B = \{\text{durante 3 segundos lleguen a la centralita 3 llamadas como mínimo}\}$.

**CLASES PARTICULARES, TUTORÍAS TÉCNICAS ONLINE
 LLAMA O ENVÍA WHATSAPP: 689 45 44 70**

- - -

**ONLINE PRIVATE LESSONS FOR SCIENCE STUDENTS
 CALL OR WHATSAPP:689 45 44 70**

61. Un proceso de fabricación de un fármaco produce por término medio 6 fármacos defectuosos por hora. ¿Cuál es probabilidad de que en un hora se produzcan menos de 3 fármacos defectuosos? ¿Y la de que en la próxima media hora se produzcan más de un fármaco defectuoso?

SOLUCIÓN

Llamando X al número de fármacos defectuosos en 1 hora, se tiene $X \sim P(6)$ y $P(X < 3) = 0,062$.
Llamando Y al número de fármacos defectuosos en $1/2$ hora, se tiene $Y \sim P(3)$ y $P(Y > 1) = 0,8009$.

62. Un examen de tipo test consta de 10 preguntas con tres respuestas posibles para cada una de ellas. Se obtiene un punto por cada respuesta acertada y se pierde medio punto por cada pregunta fallada. Un alumno sabe tres de las preguntas del test y las contesta correctamente, pero no sabe las otras siete y las contesta al azar. ¿Qué probabilidad tiene de aprobar el examen?

SOLUCIÓN

Llamando X al número de preguntas acertadas de las 7 contestadas al azar, se tiene $X \sim B(7, 1/3)$ y $P(X \geq 4) = 0,1733$.

- ★ 63. En un estudio sobre un determinado tipo de parásito que ataca el riñón de las ratas, se sabe que el número medio de parásitos en cada riñón es 3. Se pide:

- Calcular la probabilidad de que una rata tenga más de 8 parásitos.
(Nota: se supone que una rata normal tiene dos riñones).
- Si se tienen 10 ratas, ¿cuál es la probabilidad de que haya al menos 9 con parásitos?

SOLUCIÓN

- Si X es el número de parásitos en una rata, $X \sim P(6)$ y $P(X > 8) = 0,1528$.
 - Si Y es el número de ratas con parásitos en un grupo de 10 ratas, entonces $Y \sim B(10, 0,9975)$ y $P(Y \geq 9) = 0,9997$.
-

- ★ 64. El síndrome de Turner es una anomalía genética que se caracteriza porque las mujeres tienen sólo un cromosoma X . Afecta aproximadamente a 1 de cada 2000 mujeres. Además, aproximadamente 1 de cada 10 mujeres con síndrome de Turner, como consecuencia, también sufren un estrechamiento anormal de la aorta. Se pide:

- En un grupo de 4000 mujeres, ¿cuál es la probabilidad de que haya más de 3 afectadas por el síndrome de Turner? ¿Y de que haya alguna con estrechamiento de aorta como consecuencia de padecer el síndrome de Turner?
- En un grupo de 20 chicas afectadas por el síndrome de Turner, ¿cuál es la probabilidad de que menos de 3 sufran un estrechamiento anormal de la aorta?

SOLUCIÓN

**CLASES PARTICULARES, TUTORÍAS TÉCNICAS ONLINE
LLAMA O ENVÍA WHATSAPP: 689 45 44 70**

- - -

**ONLINE PRIVATE LESSONS FOR SCIENCE STUDENTS
CALL OR WHATSAPP:689 45 44 70**

65. Por estudios previos se sabe que, en una comarca, hay dos tipos de larvas que parasitan, de forma completamente independiente, los chopos, y que producen su muerte. Si la larva de tipo A está parasitando un 15% de los chopos, y la B un 30%, y en una zona concreta de la comarca hay 10 chopos:
- ¿Qué probabilidad hay que de estén siendo parasitados por A más de dos?
 - ¿Qué probabilidad hay de que estén libres de B más de 8?
 - ¿Qué probabilidad hay de que más de 1 tenga los dos tipos de larva?
 - ¿Qué probabilidad hay de que más de 3 tengan algún tipo de larva?

SOLUCIÓN

- X_A es el número de chopos parasitados por larvas del tipo A , entonces $X_A \sim B(10, 0,15)$ y $P(X_A > 2) = 0,1798$.
 - Si $X_{\overline{B}}$ es el número de chopos no parasitados por larvas del tipo B , entonces $X_{\overline{B}} \sim B(10, 0,7)$ y $P(X_{\overline{B}} > 8) = 0,1493$.
 - Si llamamos $X_{A \cap B}$ al número de chopos parasitados por larvas de ambos tipos, entonces $X_{A \cap B} \sim B(10, 0,045)$ y $P(X_{A \cap B} > 1) = 0,0717$.
 - Si llamamos $X_{A \cup B}$ al número de chopos parasitados por algún tipo de larva, entonces $X_{A \cup B} \sim B(10, 0,405)$ y $P(X_{A \cup B} > 3) = 0,6302$.
-

66. Se sabe que 2 de cada 1000 pacientes son alérgicos a un fármaco A , y que 6 de cada 1000 lo son a un fármaco B . Además, el 30% de los alérgicos a B , también lo son a A . Si se aplican los dos fármacos a 500 personas,
- ¿Cuál es la probabilidad de que no haya ninguna con alergia a A ?
 - ¿Cuál es la probabilidad de que haya al menos 2 con alergia a B ?
 - ¿Cuál es la probabilidad de que haya menos de 2 con las dos alergias?
 - ¿Cuál es la probabilidad de que haya alguna con alergia?

SOLUCIÓN

- Llamando X_A al número de personas alérgicas al fármaco A en el grupo de 500 personas, se tiene que $X_A \sim B(500, 0,002) \approx P(1)$ y $P(X_A = 0) = 0,3678$.
- Llamando X_B al número de personas alérgicas al fármaco B en el grupo de 500 personas, se tiene que $X_B \sim B(500, 0,006) \approx P(3)$ y $P(X_B \geq 2) = 0,8009$.
- Llamando $X_{A \cap B}$ al número de personas alérgicas a ambos fármacos $A \cap B$ en el grupo de 500 personas, se tiene que $X_{A \cap B} \sim B(500, 0,0018) \approx P(0,9)$ y $P(X_{A \cap B} < 2) = 0,7725$.
- Llamando $X_{A \cup B}$ al número de personas alérgicas a alguno de los fármacos $A \cup B$ en el grupo de 500 personas, se tiene que $X_{A \cup B} \sim B(500, 0,0062) \approx P(3,1)$ y $P(X_{A \cup B} > 1) = 0,9550$.

**CLASES PARTICULARES, TUTORÍAS TÉCNICAS ONLINE
LLAMA O ENVÍA WHATSAPP: 689 45 44 70**

- - -

**ONLINE PRIVATE LESSONS FOR SCIENCE STUDENTS
CALL OR WHATSAPP:689 45 44 70**

Si X es el número de fumadores en una muestra aleatoria con reemplazamiento de tamaño 4, entonces $X \sim B(4, 0,35)$ y $P(X \geq 1) = 0,8215$.

Si la muestra es sin reemplazamiento $P(X \geq 1) = 0,8364$.

★ 68. Suponiendo una facultad en la que hay un 60 % de chicas y un 40 % de chicos:

- Si un año van 6 alumnos a hacer prácticas en un hospital, ¿qué probabilidad hay de que vayan más chicos que chicas?
- En un período de 5 años, ¿cuál es la probabilidad de que más de 1 año no haya ido ningún chico?

SOLUCIÓN

- Si X es el número de chicos, $X \sim B(6, 0,4)$ y $P(X \geq 4) = 0,1792$.
- Si Y es el número de años que no ha ido ningún chico, $Y \sim B(5, 0,0467)$ y $P(Y > 1) = 0,0199$.

69. Una variable aleatoria continua X tiene una función de densidad dada por:

$$f(x) = \begin{cases} k(6 - 3x) & \text{si } 0 \leq x \leq 2, \\ 0 & \text{si } x < 0 \text{ o } x > 2. \end{cases}$$

- Determinar el valor de k .
- Hallar $P(X \leq 1)$; $P(X > 2)$; $P(X = 1/4)$; $P(1/3 \leq X \leq 2/3)$.
- Calcular μ y σ .
- Hallar la función de distribución $F(x)$.

SOLUCIÓN

- $k = 1/6$.
- $P(X \leq 1) = 0,75$, $P(X > 2) = 0$, $P(X = 1/4) = 0$ y $P(1/3 \leq X \leq 2/3) = 1/4$.
- $\mu = 2/3$, $\sigma^2 = 2/9$ y $\sigma = \sqrt{2}/3$.
-

$$F(x) = \begin{cases} 0 & \text{si } x < 0, \\ x - \frac{x^2}{4} & \text{si } 0 \leq x \leq 2, \\ 1 & \text{si } 2 < x. \end{cases}$$

★ 70. La función de densidad de la variable aleatoria continua X viene dada por la gráfica siguiente:

Y
↑

CLASES PARTICULARES, TUTORÍAS TÉCNICAS ONLINE
LLAMA O ENVÍA WHATSAPP: 689 45 44 70

ONLINE PRIVATE LESSONS FOR SCIENCE STUDENTS
CALL OR WHATSAPP:689 45 44 70

- a) $P(\frac{1}{2} \leq X \leq \frac{5}{4})$.
 b) Función de distribución.
 c) Media y desviación típica.

SOLUCIÓN

- a) $P(\frac{1}{2} \leq X \leq \frac{5}{4}) = 19/32$.
 b)

$$F(x) = \begin{cases} 0 & \text{si } x < 0, \\ \frac{x^2}{2} & \text{si } 0 \leq x \leq 1, \\ -\frac{x^2}{2} + 2x - 1 & \text{si } 1 < x \leq 2, \\ 1 & \text{si } 2 < x. \end{cases}$$

- c) $\mu = 1$, $\sigma^2 = 1/6$ y $\sigma = 1/\sqrt{6}$.

- ★ 71. Se sabe que la duración de las baterías de un tipo de marcapasos (expresada en años) es una variable aleatoria cuya función de densidad es

$$f(x) = \begin{cases} 0 & \text{si } x < 0, \\ \frac{e^{-x/10}}{10} & \text{si } x \geq 0. \end{cases}$$

Se pide:

- a) Comprobar que $f(x)$ es función de densidad.
 b) Calcular la función de distribución.
 c) Calcular la probabilidad de que la batería dure menos de 5 años, y de que dure entre 5 y 10 años.
 d) Calcular la vida media de la batería.

SOLUCIÓN

- a) $\int_{-\infty}^{\infty} f(x) dx = [-e^{-x/10}]_{-\infty}^{\infty} = 1$.
 b)

$$F(x) = \begin{cases} 0 & \text{si } s < 0, \\ 1 - e^{-x/10} & \text{si } x \geq 0. \end{cases}$$

- c) $P(X < 5) = 0,3935$ y $P(5 < X < 10) = 0,2387$.
 d) $\mu = 10$ años.

72. Un empleado suele acudir al trabajo en cualquier instante entre las 6 y las 7 con igual probabilidad.
 Se pide:



**CLASES PARTICULARES, TUTORÍAS TÉCNICAS ONLINE
 LLAMA O ENVÍA WHATSAPP: 689 45 44 70**

**ONLINE PRIVATE LESSONS FOR SCIENCE STUDENTS
 CALL OR WHATSAPP:689 45 44 70**

a)

$$f(x) = \begin{cases} 0 & \text{si } x < 6, \\ 1 & \text{si } 6 \leq x \leq 7, \\ 0 & \text{si } 7 < x. \end{cases}$$

b)

$$F(x) = \begin{cases} 0 & \text{si } x < 6, \\ x - 6 & \text{si } 6 \leq x \leq 7, \\ 1 & \text{si } 7 < x. \end{cases}$$

c) $P(6,25 < X < 6,5) = 0,25$.d) $\mu = 6,5$, es decir, a las 6 horas y media.

73. Sea Z una variable aleatoria que sigue una distribución $N(0, 1)$. Determinar el valor de t en cada uno de los siguientes casos:

a) El área entre 0 y t es 0,4783.b) El área a la izquierda de t es 0,6406.c) El área entre $-1,5$ y t es 0,2313.

———— SOLUCIÓN ————

a) $t = 2,02$.b) $t = 0,36$.c) $t = -0,53$.

74. Entre los diabéticos, el nivel de glucosa en la sangre en ayunas, puede suponerse de distribución aproximadamente normal, con media 106 mg/100 ml y desviación típica 8 mg/100 ml.

a) Hallar $P(X \leq 120 \text{ mg}/100 \text{ ml})$.

b) ¿Qué porcentaje de diabéticos tendrá niveles entre 90 y 120 mg/100 ml?

c) Encontrar un valor que tenga la propiedad de que el 25 % de los diabéticos tenga un nivel de glucosa X por debajo de dicho valor.

———— SOLUCIÓN ————

a) $P(X \leq 120) = 0,9599$.b) $P(90 < X < 120) = 0,9371$, es decir, un 93,71 %.

c) 100,64 mg/100 ml.



**CLASES PARTICULARES, TUTORÍAS TÉCNICAS ONLINE
LLAMA O ENVÍA WHATSAPP: 689 45 44 70**

**ONLINE PRIVATE LESSONS FOR SCIENCE STUDENTS
CALL OR WHATSAPP:689 45 44 70**

SOLUCIÓN

- a) $\mu = 0,7$ mg y $\sigma = 0,25$ mg.
 b) $P(X > 1) = 0,1151$ y el número de personas con más de 1 mg de bilirrubina es $0,1151 \cdot 40000 = 4604$.
-

★ 76. Se supone que la tensión arterial de los habitantes de una población de 20000 habitantes sigue una distribución normal, cuya media es 13 y su rango intercuartílico 4. Se pide:

- a) ¿Cuántas personas tienen una tensión por encima de 16?
 b) ¿Cuánto tendrá que disminuir la tensión de una persona que tiene 16 para situarse en el 40 % de la población con tensión más baja?
-

SOLUCIÓN

- a) $P(X > 16) = 0,1587$ y el número de personas con tensión por encima de 16 mmHg es $0,1587 \cdot 20000 = 3174$.
 b) Debe disminuir 3,75 mmHg.
-

★ 77. En una población de 30000 individuos se está interesado en medir el volumen sanguíneo de sus individuos. Se sabe que la desviación típica de la población es 0,4 litros y que el 50 % de los individuos tienen un volumen superior a 4,8 litros. ¿Cuántos individuos presentarán un volumen menor de 4,3 litros?

SOLUCIÓN

El número de individuos con menos de 4,3 litros de sangre es 3168.

★ 78. Una solución contiene virus bacteriófagos T_4 en una concentración de $4 \cdot 10^6$ por mm^3 . En la misma solución hay $2 \cdot 10^6$ bacterias por mm^3 . Suponiendo que todos los virus infectan bacterias y que se distribuyen al azar entre las mismas, se pide:

- a) ¿Cuál es el porcentaje de bacterias que no están infectadas por el virus?
 b) ¿Qué porcentaje de bacterias tendrá al menos 2 virus fijados sobre ellas?
 c) Si tomamos un volumen pequeño de dicha solución en el que hay 4 bacterias, ¿cuál es la probabilidad de que alguna esté infectada?
 d) Si tomamos un volumen en el que hay 10000 bacterias, ¿cuál es la probabilidad de que estén infectadas al menos 8600?

★ 79. El gasto mensual en medicamentos de las familias españolas antes de la crisis seguía una distribución normal $X \sim N(160, \sigma)$, mientras que ahora sigue una distribución normal $Y \sim N(\mu, 2\sigma)$. Sabiendo

**CLASES PARTICULARES, TUTORÍAS TÉCNICAS ONLINE
 LLAMA O ENVÍA WHATSAPP: 689 45 44 70**

**ONLINE PRIVATE LESSONS FOR SCIENCE STUDENTS
 CALL OR WHATSAPP:689 45 44 70**

- a) $P(110 \leq Y \leq 120) = 0,0638$.
- b) El decil tercero en X es $D_3 = 143,75$ euros y se corresponde aproximadamente con el percentil 67 de Y .

- ★ 80. Para el tratamiento de una enfermedad se utilizan 3 fármacos diferentes: A en un 20 % de los casos, B en un 30 %, y C en un 50 %. Los tratados con A curan en media al cabo de 6,2 días con una desviación típica de 1,1 días; los tratados con B en 7,1 días con una desviación típica de 1,3 y los tratados con C en 7,4 días con una desviación típica de 0,9. Con ello:
- a) En qué fármaco es mayor el percentil 90, en B o en C ?
- b) Qué probabilidad total hay de que tomado un enfermo al azar haya curado antes de 8,1 días?
- c) Sabiendo que un enfermo ha tardado en curar más de 7,2 días, con qué fármaco es más probable que haya sido tratado? Justificar adecuadamente la respuesta.

SOLUCIÓN

Llamando X al tiempo de curación y A , B y C a los sucesos consistentes en haber sido tratado respectivamente con cada uno de los fármacos:

- a) El percentil 90 en el fármaco B es 8,7660 días y en C es 8,5534 días, así que es mayor en el fármaco B .
- b) $P(X < 8,1) = 0,8161$.
- c) $P(A/X > 7,2) = 0,0771$, $P(B/X > 7,2) = 0,2989$ y $P(C/X > 7,2) = 0,624$, así que es más probable que haya sido tratado con el fármaco C .

- ★ 81. Se sabe que la concentración de urea láctica, en mg/cm^3 , en vacas sanas sigue una distribución normal de media 28 y desviación típica 1,5, mientras que en vacas con una determinada enfermedad sigue una distribución normal de media 34,5 y desviación típica 2. Para detectar la enfermedad se realiza un test diagnóstico que da positivo cuando el nivel de urea láctica está por encima de 32. Se pide:
- a) ¿Qué sensibilidad $P(+/E)$ y qué especificidad $P(-/\bar{E})$ tiene el test diagnóstico?
- b) Si el test da positivo en un 5 % de los casos analizados, ¿cuál será el porcentaje de vacas enfermas en la población?
- c) Teniendo en cuenta el porcentaje de vacas enfermas anterior, ¿cuál será la probabilidad de diagnóstico acertado con este test?

SOLUCIÓN

- a) $P(+/E) = 0,8944$ y $P(-/\bar{E}) = 0,9962$.
- b) $P(E) = 0,0465$.
- c) $P(E \cap +) + P(\bar{E} \cap -) = 0,0416 + 0,9498 = 0,99143$.



Cartagena99

**CLASES PARTICULARES, TUTORÍAS TÉCNICAS ONLINE
LLAMA O ENVÍA WHATSAPP: 689 45 44 70**

**ONLINE PRIVATE LESSONS FOR SCIENCE STUDENTS
CALL OR WHATSAPP:689 45 44 70**